

Exercice 1. On considère la fonction f définie sur $[-3; 3]$ par $f(x) = x^2$.

- À l'aide de la calculatrice, obtenir un tableau de valeurs, en partant de -3 , avec un pas de 1.
- Tracer la courbe représentative de f dans un repère orthonormé.

Exercice 2. On considère la fonction f définie sur $[-4; 4]$ par $f(x) = \frac{x^3}{10}$.

- À l'aide de la calculatrice, obtenir un tableau de valeurs, en partant de -4 , avec un pas de 1.
- Tracer la courbe représentative de f dans un repère orthonormé.

Exercice 3. On considère une fonction f vérifiant $f(2) = 3$. Compléter les phrases à trous suivantes.

- a pour image par la fonction f .
- Le point $A(\dots; \dots)$ est un point de la courbe représentative de la fonction f .
- Le nombre réel est une solution de l'équation $f(x) = \dots$.
- Le nombre réel est un antécédent de par la fonction f .

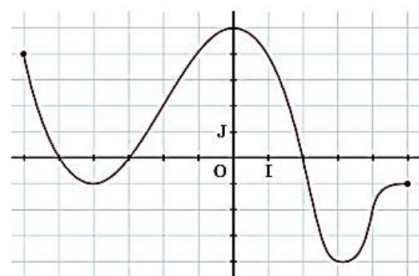
Exercice 4. Les vétérinaires donnent parfois le tableau de correspondance entre l'âge des chats et l'équivalent en âge humain ci-contre. On note c l'âge du chat en année et $H(c)$ l'âge humain en équivalent en année.

Âge du chat (en année)	0,5	1	2	6	12	16
Âge humain (en année)	10	18	26	42	70	94

- Dans un repère orthogonal, tracer une courbe représentant la fonction H sur $[0; 16]$.
- Les deux âges sont-ils proportionnels ? Justifier.
Quelle est la représentation graphique qui modélise une situation de proportionnalité ?
- Préciser l'image de 3 et interpréter la réponse.
- Donner un antécédent de 60 et interpréter la réponse.

Exercice 5.

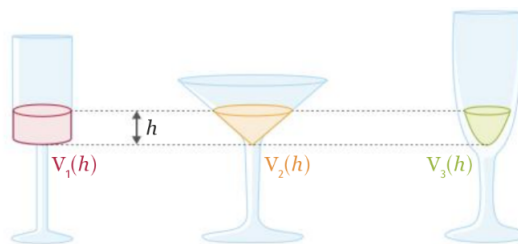
Dans un repère orthogonal, on a tracé la représentation graphique d'une fonction f .



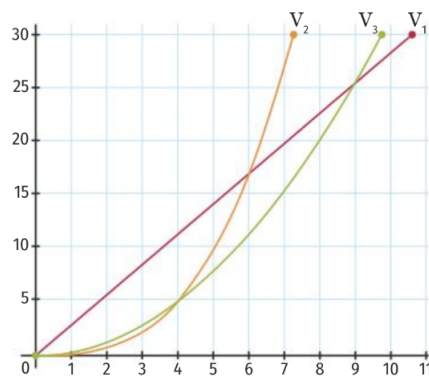
- Déterminer l'ensemble de définition D_f .
- Donner l'image de -4 par la fonction f .
- Donner $f(-2)$, $f(3)$ et $f(4)$.
- Quels sont les antécédents de 5 par f ? De -1 ? De 0 ?

Exercice 6.

On considère les trois verres ci-contre et on note h la hauteur du liquide contenu dans chaque verre. On note $V_1(h)$, $V_2(h)$ et $V_3(h)$ les volumes respectifs de liquide (en cL) dans ces 3 verres en fonction de h (en cm) jusqu'à remplissage complet.



On a tracé ci-contre les différentes courbes représentatives des fonctions V_1 , V_2 et V_3 . Pour chacun des trois verres :



- Préciser les ensembles de définition des volumes associés ainsi que les images à leurs extrémités. Interpréter ces résultats.
- Préciser le volume à mi-hauteur, puis la hauteur du verre quand il est à moitié plein.
- On verse 20 cL : préciser la hauteur du liquide dans chacun des trois verres.
- Déterminer les coordonnées des différents points d'intersection et interpréter le résultat.
- Si on remplit les trois verres à une même hauteur, est-il possible que les trois convives aient le même volume de liquide ? Justifier.

Exercice 7. La fonction f est représentée par la courbe \mathcal{C}_f . Compléter le tableau suivant.

Images ou antécédents	$f(x) = y$	Courbe \mathcal{C}_f
3 a pour image -1 par f		
	$f(2) = 5$	
		$A(1; -2) \in \mathcal{C}_f$
0 est un antécédent de 4 par f		
		$B(5; 12) \in \mathcal{C}_f$
8 a pour antécédents -1 et 9 par f		

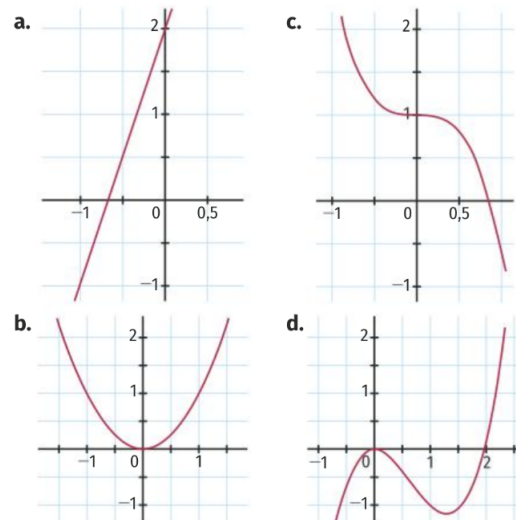
Exercice 8.

- Soit \mathcal{C}_f la courbe représentative de la fonction f définie sur \mathbb{R} par $f(x) = \sqrt{25 - x^2}$.
 - Le point $(-4; 3)$ appartient-il à la courbe \mathcal{C}_f ? Justifier.
 - Même question avec le point $(\frac{1}{2}; \frac{9}{2})$.
- Soit \mathcal{C}_g la courbe représentative de la fonction g définie sur \mathbb{R} par $g(x) = \frac{5x-4}{2}$.
Le point $(6; 13)$ appartient-il à la courbe \mathcal{C}_f ? Justifier.

Exercice 9.

Dans chaque cas, on a représenté dans un repère orthonormé une fonction f définie sur \mathbb{R} . Pour chacune d'elle

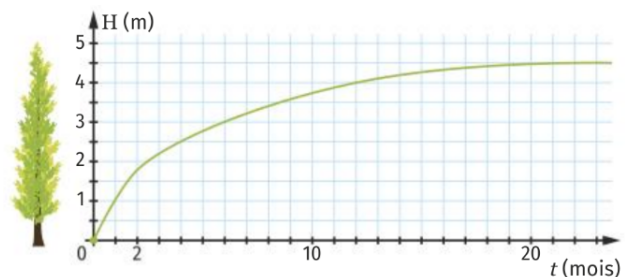
- préciser graphiquement les solutions des équations $f(x) = -0,5$; $f(x) = 0$ et $f(x) = 2$;
- déterminer, suivant les valeurs de k , le nombre de solutions de l'équation $f(x) = k$ où $k \in \mathbb{R}$.



Exercice 10.

On considère la hauteur H , en mètre, d'un type d'arbre en fonction de son âge t (en mois).

- Déterminer et interpréter $H(1)$.
- Ces arbres sont commercialisables dès qu'ils mesurent au moins 2 m : traduire cela par une inéquation et la résoudre.



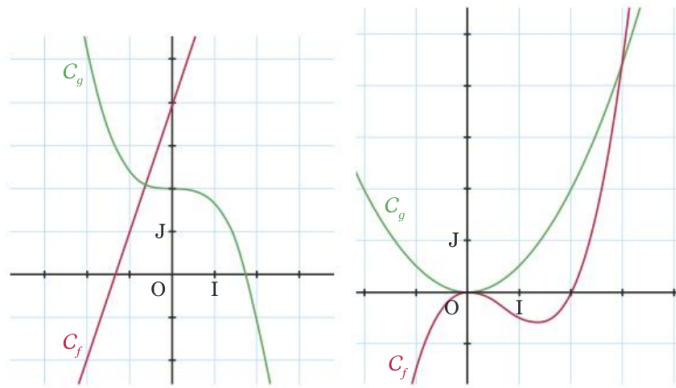
- À partir de quelle année ces arbres atteignent-ils leur hauteur maximale?
- Dès qu'ils atteignent 3,5 m, Jean taille ses arbres à une hauteur de 3 m. Les arbres repoussent toujours au même rythme. Quelle sera la fréquence des coupes après la première?

Exercice 11.

Dans chaque cas, on a tracé dans un repère orthogonal $(O; I, J)$ la courbe représentative C_f d'une fonction f et la courbe représentative C_g d'une fonction g définie sur \mathbb{R} .

Dans chaque cas, résoudre graphiquement l'équation

$$f(x) = g(x).$$



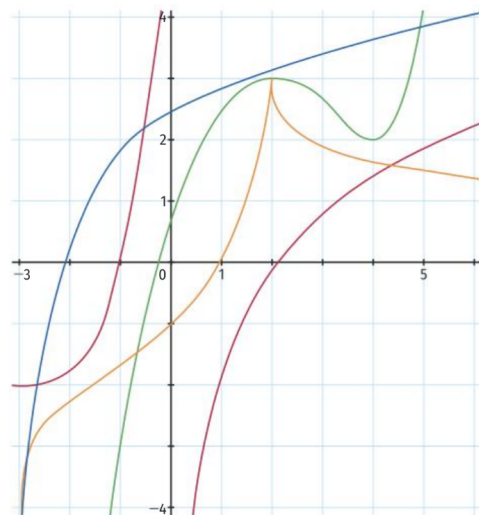
Exercice 12. On considère les fonctions f et g définies sur \mathbb{R} par, pour tout $x \in \mathbb{R}$, $f(x) = x^2$ et $g(x) = 4x - 4$.

1. Afficher les représentations graphiques de f et g sur la calculatrice.
2. En appuyant sur la touche **CALCULS**, puis en sélectionnant **INTERSECTION**, trouver le point d'intersection entre les courbes représentatives de f et de g .
3. Vérifier que, pour tout $x \in \mathbb{R}$, $f(x) - g(x) = x^2 - 4x + 4$ puis factoriser cette expression.
4. Donner les solutions de l'équation $f(x) - g(x) = 0$.
5. Quel est le lien entre les questions 1 et 2 et les questions 3 et 4?

Exercice 13.

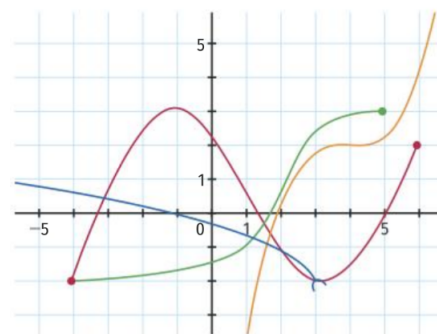
Associer à chaque tableau de variation ci-dessous la courbe correspondante ci-contre.

1.	<table border="1" style="width: 100%; border-collapse: collapse;"> <tr> <td style="padding: 2px;">x</td> <td style="padding: 2px;">$-\infty$</td> <td style="padding: 2px;">0</td> <td style="padding: 2px;">$+\infty$</td> </tr> <tr> <td style="padding: 2px;">f_1</td> <td colspan="2" style="text-align: center;">↗</td> <td style="text-align: center;">↘</td> </tr> </table>	x	$-\infty$	0	$+\infty$	f_1	↗		↘			
x	$-\infty$	0	$+\infty$									
f_1	↗		↘									
2.	<table border="1" style="width: 100%; border-collapse: collapse;"> <tr> <td style="padding: 2px;">x</td> <td style="padding: 2px;">$-\infty$</td> <td style="padding: 2px;">$+\infty$</td> </tr> <tr> <td style="padding: 2px;">f_2</td> <td colspan="2" style="text-align: center;">↗</td> </tr> </table>	x	$-\infty$	$+\infty$	f_2	↗						
x	$-\infty$	$+\infty$										
f_2	↗											
3.	<table border="1" style="width: 100%; border-collapse: collapse;"> <tr> <td style="padding: 2px;">x</td> <td style="padding: 2px;">$-\infty$</td> <td style="padding: 2px;">2</td> <td style="padding: 2px;">$+\infty$</td> </tr> <tr> <td style="padding: 2px;">f_3</td> <td style="text-align: center;">↗</td> <td style="text-align: center;">3</td> <td style="text-align: center;">↘</td> </tr> </table>	x	$-\infty$	2	$+\infty$	f_3	↗	3	↘			
x	$-\infty$	2	$+\infty$									
f_3	↗	3	↘									
4.	<table border="1" style="width: 100%; border-collapse: collapse;"> <tr> <td style="padding: 2px;">x</td> <td style="padding: 2px;">$-\infty$</td> <td style="padding: 2px;">2</td> <td style="padding: 2px;">4</td> <td style="padding: 2px;">$+\infty$</td> </tr> <tr> <td style="padding: 2px;">f_4</td> <td style="text-align: center;">↗</td> <td style="text-align: center;">3</td> <td style="text-align: center;">↘</td> <td style="text-align: center;">2</td> <td style="text-align: center;">↗</td> </tr> </table>	x	$-\infty$	2	4	$+\infty$	f_4	↗	3	↘	2	↗
x	$-\infty$	2	4	$+\infty$								
f_4	↗	3	↘	2	↗							



Exercice 14.

1. Pour chaque représentation graphique ci-dessous, desser le tableau de variation correspondant.
2. Préciser si ces courbes admettent un maximum ou un minimum, et le(s) donner le cas échéant.



Exercice 15.

On considère une fonction f dont le tableau de variations est donné ci-contre. Répondre par vrai ou par faux aux affirmations suivantes.

x	$-\infty$	-3	0	2	5				
f	↗		-5	↘	-7	↗	3	↘	1

1. L'ensemble de définition de f est $[-3; 5]$.
2. f est croissante sur $[-7; 3]$
3. f est décroissante sur $[-3; 2]$
4. f est décroissante sur $[2; 5]$
5. f est négative sur $]-\infty; 0]$.
6. f est positive sur $[0; 2]$.
7. -7 est le minimum de f .
8. 3 est le maximum de f .